

രണ്ടാം പാദ മാതൃകാ ചോദ്യ പേപ്പർ

സാമൂഹ്യ ശാസ്ത്രം

സമയം: 2 മണിക്കൂർ

സ്കോർ : 25

നിർദ്ദേശങ്ങൾ

1. മൂല്യനിർണ്ണയ പ്രവർത്തനങ്ങൾ ആരംഭിക്കുന്നതിനു മുമ്പ് 15 മിനിറ്റ് സമാശ്വാസ സമയമാണ്. ഈ സമയം പ്രവർത്തനങ്ങൾ നന്നായി വായിച്ച് മനസ്സിലാക്കാനുള്ളതാണ്.
2. തന്നിട്ടുള്ള 7 പ്രവർത്തനങ്ങളിൽ 5 എണ്ണത്തിന് ഉത്തരമെഴുതിയാൽ മതി.
3. തിരഞ്ഞെടുക്കുന്ന 5 പ്രവർത്തനങ്ങളിലെ എല്ലാ ഉപപ്രവർത്തനങ്ങൾക്കും ഉത്തരം എഴുതേണ്ടതാണ്.

പ്രവർത്തനം 1

ചിത്രം നിരീക്ഷിക്കുക.



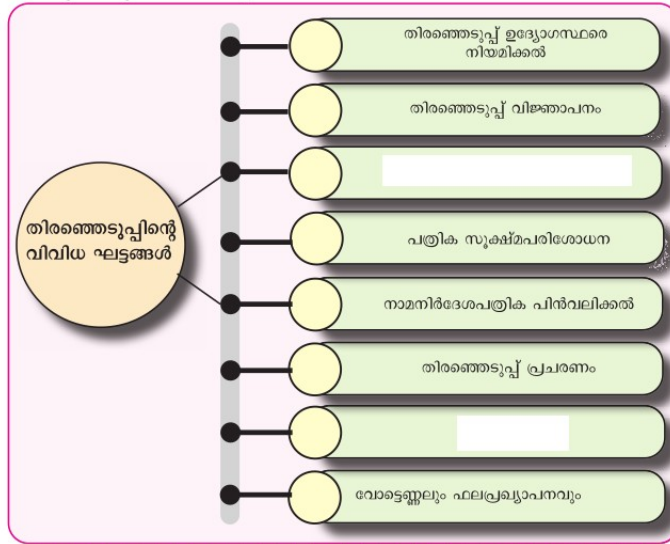
a. ചുവരിൽ തൂക്കിയിട്ട ഈ ഭൂപടത്തിലെ ദിശ എങ്ങനെ കണ്ടെത്താം?

1	മുകൾഭാഗം	
2	ചുവടുഭാഗം	
3	വലതുഭാഗം	
4	ഇടതുഭാഗം	

b. ദിശ അറിയാനുള്ളതല്ലാത്ത ഒരു ഉപകരണത്തിന്റെ പേര് എഴുതുക

പ്രവർത്തനം 2


a. വിട്ടുപോയ ഭാഗങ്ങൾ പൂരിപ്പിക്കൂ.



b. തിരഞ്ഞെടുപ്പിന്റെ ഏതെങ്കിലും മൂന്നു ധർമ്മങ്ങൾ എഴുതുക.

പ്രവർത്തനം 3

ചക്രങ്ങളുടെ കണ്ടുപിടുത്തം മനുഷ്യജീവിതത്തിൽ വരുത്തിയ ചില മാറ്റങ്ങൾ സൂചിപ്പിക്കുന്ന ചിത്രങ്ങൾ നോക്കൂ.



a. മറ്റൊരുതലോ മാറ്റങ്ങളാണ് ചക്രങ്ങളുടെ വരവോടെ മനുഷ്യ ജീവിതത്തിൽ സംഭവിച്ചിട്ടുള്ളത്? കുറിപ്പ് തയ്യാറാക്കുക.

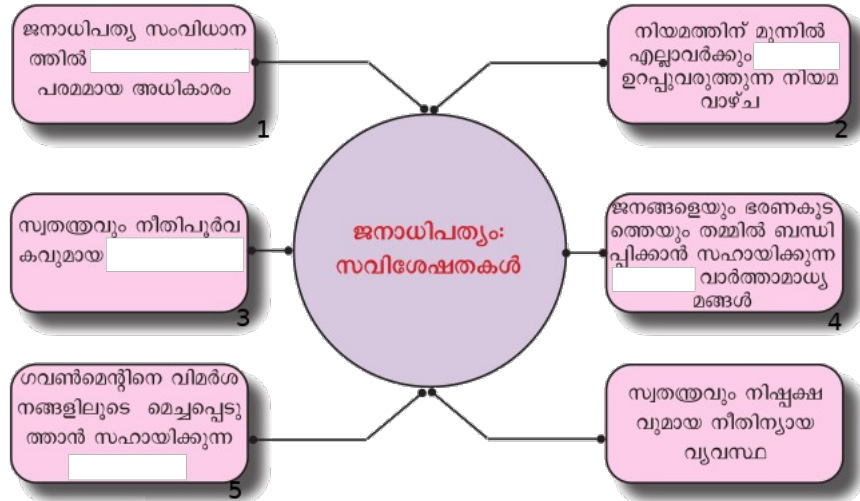
b. ഇന്ന് നാം ഉപയോഗിക്കുന്ന മൂന്ന് പ്രധാന ഗതാഗതം മാർഗങ്ങളും അവയ്ക്കുള്ള ഓരോ ഉദാഹരണങ്ങളും ചേർത്ത് പട്ടികപ്പെടുത്തുക.

c. ലോകത്തെ രണ്ടാമത്തെ വലിയ റോഡ് ശൃംഖല ഏത് രാജ്യത്താണ്?

1. ചൈന
2. ഇന്ത്യ
3. ഇംഗ്ലണ്ട്
4. ജർമ്മനി


പ്രവർത്തനം 4

വിട്ടുപോയ ഭാഗങ്ങൾ പൂരിപ്പിക്കൂ.



പ്രവർത്തനം 5

വാർത്തകളും സന്ദേശങ്ങളും പൊതുജനങ്ങളെ അറിയിക്കുന്നതിന് രാജഭരണകാലത്ത് ഉപയോഗിച്ചിരുന്ന ആശയവിനിമയം മാർഗ്ഗങ്ങളിലൊന്നാണ് ചിത്രത്തിൽ കാണിച്ചിരിക്കുന്നത്.



- ആദിമ മനുഷ്യർ ആശയങ്ങൾ കൈമാറാൻ ഉപയോഗിച്ചിരുന്ന മാർഗ്ഗങ്ങൾ ഏതൊക്കെ?
- സുമേറിയക്കാർ വികസിപ്പിച്ചെടുത്ത ലിപി അറിയപ്പെടുന്നത്
 - ഹൈറോഗ്ലിഫിക്സ്
 - ക്യൂണിഫോം
 - സംസ്കൃതം
 - ചൈനീസ്
- ആധുനിക കാലത്ത് വാർത്തകളും സന്ദേശങ്ങളും കൈമാറുന്നതിന് ഉപയോഗിക്കുന്ന മാർഗ്ഗങ്ങൾ എന്തെല്ലാം ?

പ്രവർത്തനം 6

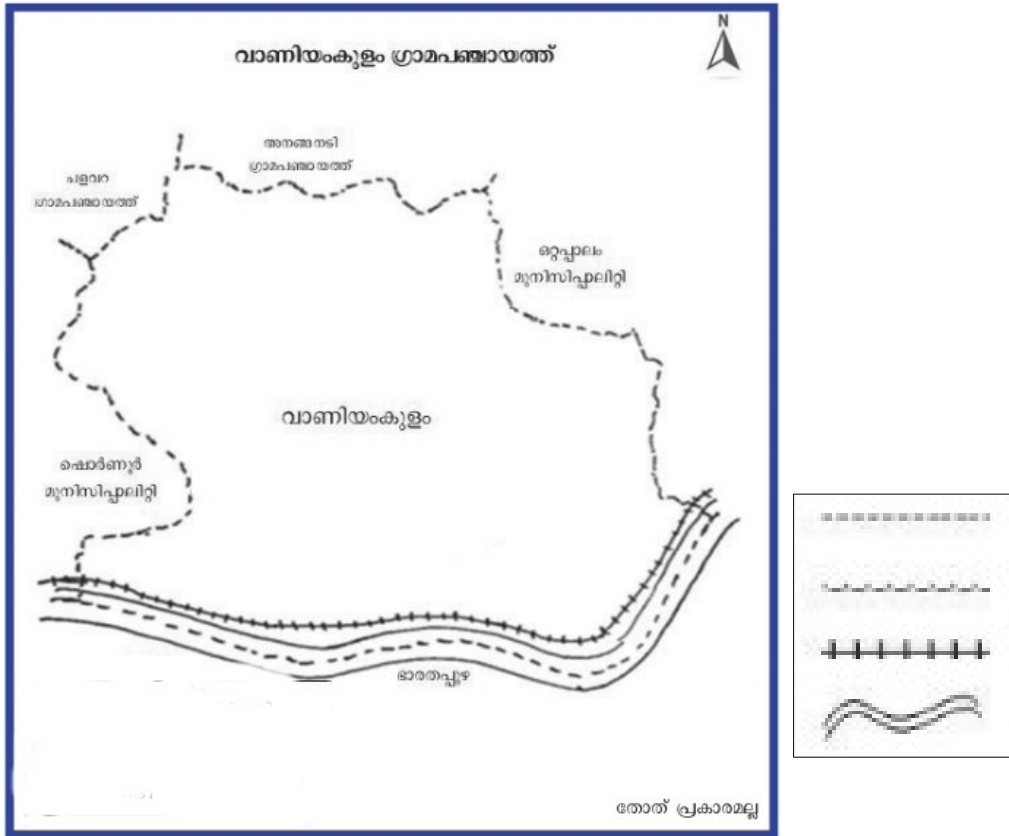
ചിത്രം നിരീക്ഷിച്ച് ചുവടെ ചേർക്കുന്ന ചോദ്യങ്ങളുടെ ഉത്തരം കണ്ടെത്തുക.



1	ഇന്ത്യയുടെ കിഴക്കുഭാഗത്തുള്ള കടൽ	
2	ഇന്ത്യയുടെ പടിഞ്ഞാറുഭാഗത്തുള്ള കടൽ	
3	ഇന്ത്യയുടെ തെക്കുഭാഗത്തുള്ള ഒരു അയൽ രാജ്യം	
4	ഇന്ത്യയുടെ തെക്കേ അറ്റത്തുള്ള കേന്ദ്ര ഭരണ പ്രദേശം	
5	അരുണാചൽപ്രദേശ് ഇന്ത്യയുടെ ഏത് ഭാഗത്ത് സ്ഥിതി ചെയ്യുന്നു	

പ്രവർത്തനം 7

കേരളത്തിലെ ഒരു ഗ്രാമപഞ്ചായത്തിന്റെ രൂപരേഖ നിരീക്ഷിച്ചുവല്ലോ.



a. തന്നിരിക്കുന്ന സൂചികകൾ ഭൂപടത്തിലെ എന്തിനെക്കുറിച്ചും സൂചിപ്പിക്കുന്നു എന്ന് കണ്ടെത്തുക.

-
-
-
-

b. ഭാരതപ്പുഴയ്ക്ക് സമാന്തരമായി കടന്നുപോകുന്ന പ്രധാന ഗതാഗത മാർഗ്ഗം ഏതാണ്?

c. നിങ്ങളുടെ സ്വന്തം നാട്ടിലെ രണ്ട് ഭൂമിശാസ്ത്ര സവിശേഷതകൾ പട്ടികപ്പെടുത്തുക.

SAMAGRA PLUS

NO	Key Point	Score	Total												
Activity 1	<p>(a)</p> <table border="1" style="width: 100%; border-collapse: collapse;"> <tr> <td style="width: 5%; text-align: center;">1</td> <td style="width: 40%; text-align: center;">മുകൾഭാഗം</td> <td style="width: 40%; text-align: center;">വടക്കുദിശ</td> </tr> <tr> <td style="text-align: center;">2</td> <td style="text-align: center;">ചുവടുഭാഗം</td> <td style="text-align: center;">തെക്കുദിശ</td> </tr> <tr> <td style="text-align: center;">3</td> <td style="text-align: center;">വലതുഭാഗം</td> <td style="text-align: center;">പടിഞ്ഞാറുദിശ</td> </tr> <tr> <td style="text-align: center;">4</td> <td style="text-align: center;">ഇടതുഭാഗം</td> <td style="text-align: center;">കിഴക്കുദിശ</td> </tr> </table> <p>(ഭൂപടത്തിൽ സാധാരണയായി ദിശ കാണിക്കുന്ന അടയാളം നൽകിയിരിക്കും. ചുമർ ഭൂപടങ്ങളുടെ മുകൾ ഭാഗത്ത് വടക്കുദിശയെ സൂചിപ്പിക്കുന്ന അടയാളം കാണാം. ഭൂപടത്തിന്റെ ചുവടുഭാഗം തെക്കുദിശയെയും വലതുഭാഗം പടിഞ്ഞാറുദിശയെയും ഇടതുഭാഗം കിഴക്കുദിശയെയും സൂചിപ്പിക്കുന്നു.)</p>	1	മുകൾഭാഗം	വടക്കുദിശ	2	ചുവടുഭാഗം	തെക്കുദിശ	3	വലതുഭാഗം	പടിഞ്ഞാറുദിശ	4	ഇടതുഭാഗം	കിഴക്കുദിശ	4	
	1	മുകൾഭാഗം	വടക്കുദിശ												
2	ചുവടുഭാഗം	തെക്കുദിശ													
3	വലതുഭാഗം	പടിഞ്ഞാറുദിശ													
4	ഇടതുഭാഗം	കിഴക്കുദിശ													
	<p>(b). ദിശ അറിയാനുള്ള ഉപയോഗിക്കുന്ന ഉപകരണം വടക്കുനോക്കിയന്ത്രം</p>	1	5												
Activity 2	<p>(a). വിട്ടുപോയ ഭാഗങ്ങൾ പൂരിപ്പിക്കൂ.</p> <ol style="list-style-type: none"> 1. നാമനിർദ്ദേശ പത്രിക സമർപ്പിക്കൽ 2. വോട്ടെടുപ്പ് 	1													
	<p>(b). തിരഞ്ഞെടുപ്പിന്റെ ഏതെങ്കിലും മൂന്നു ധർമ്മങ്ങൾ എഴുതുക.</p> <ol style="list-style-type: none"> 1. ഗവൺമെന്റുകൾ രൂപീകരിക്കുന്നു. 2. എല്ലാവർക്കും പ്രാതിനിധ്യം നൽകുന്നു. 3. ഭരണകർത്താക്കളെ വളർത്തിയെടുക്കുന്നു. 4. ജനാധിപത്യം ശക്തിപ്പെടുത്തുന്നു. 5. വോട്ടർമാരെ ബോധവൽക്കരിക്കുന്നു. <p>(ഏതെങ്കിലും മൂന്ന് ധർമ്മങ്ങൾ എഴുതുക)</p>	1													
			1												
			1												
			1	5											
Activity 3	<p>(a). മറ്റൊരു ലോകം മാറ്റങ്ങളാണ് ചക്രങ്ങളുടെ വരവോടെ മനുഷ്യ ജീവിതത്തിൽ സംഭവിച്ചിട്ടുള്ളത്? കുറിപ്പ് തയ്യാറാക്കുക.</p> <ol style="list-style-type: none"> 1. സഞ്ചാരം വേഗത്തിലായി. 2. കൂടുതൽ ദൂരം സഞ്ചരിക്കാൻ കഴിഞ്ഞു 3. അധ്വാനഭാരം കുറഞ്ഞു 4. കൂടുതൽ സാധനങ്ങൾ കൊണ്ടുപോകാൻ കഴിഞ്ഞു <p>(b). ഇന്ന് നാം ഉപയോഗിക്കുന്ന മൂന്ന് പ്രധാന ഗതാഗത മാർഗങ്ങളും അവയ്ക്കുള്ള ഓരോ ഉദാഹരണങ്ങളും ചേർത്ത്</p>	2													

	<p>പട്ടികപ്പെടുത്തുക.</p> <p>കര ഗതാഗതം - റോഡ് ഗതാഗതം</p> <p>ജല ഗതാഗതം - സമുദ്ര ഗതാഗതം</p> <p>വ്യോമ ഗതാഗതം - ദേശീയ വ്യോമ ഗതാഗതം</p> <p>c. ലോകത്തെ രണ്ടാമത്തെ വലിയ റോഡ് ശൃംഖല ഏത് രാജ്യത്താണ്?</p> <p>1. ചൈന 2. ഇന്ത്യ 3. ഇംഗ്ലണ്ട് 4. ജർമ്മനി</p> <p>2. ഇന്ത്യ</p>	2													
	<p>c. ലോകത്തെ രണ്ടാമത്തെ വലിയ റോഡ് ശൃംഖല ഏത് രാജ്യത്താണ്?</p> <p>1. ചൈന 2. ഇന്ത്യ 3. ഇംഗ്ലണ്ട് 4. ജർമ്മനി</p> <p>2. ഇന്ത്യ</p>	1	5												
Activity 4	<p>വിട്ടുപോയ ഭാഗങ്ങൾ പൂരിപ്പിക്കൂ.</p> <ol style="list-style-type: none"> 1. ജനങ്ങൾക്കാണ് 2. തുല്യത 3. തിരഞ്ഞെടുപ്പ് 4. സ്വതന്ത്ര 5. പ്രതിപക്ഷം 	1 1 1 1 1	5												
Activity 5	<p>(a).ആദിമ മനുഷ്യർ ആശയങ്ങൾ കൈമാറാൻ ഉപയോഗിച്ചിരുന്ന മാർഗ്ഗങ്ങൾ ഏതൊക്കെ?</p> <p style="padding-left: 40px;">ശരീര - മുഖചലനങ്ങൾ, തീയും പുകയും, ചിഹ്നങ്ങൾ</p> <p>(b). സുമേറിയക്കാർ വികസിപ്പിച്ചെടുത്ത ലിപി അറിയപ്പെടുന്നത്</p> <ol style="list-style-type: none"> a) ഹൈറോഗ്ലിഫിക്സ് b) ക്യൂണിഫോം c) സംസ്കൃതം d) ചൈനീസ് <p>(b) ക്യൂണിഫോം</p> <p>(c). ആധുനിക കാലത്ത് വാർത്തകളും സന്ദേശങ്ങളും കൈമാറുന്നതിന് ഉപയോഗിക്കുന്ന മാർഗ്ഗങ്ങൾ എന്തെല്ലാം ?</p> <p style="padding-left: 40px;">ഫോൺ, കത്ത്, ടെലിവിഷൻ, ഓൺലൈൻ സംവിധാനങ്ങൾ, പത്രങ്ങൾ</p>	2 1													
Activity 6	<table border="1" style="width: 100%; border-collapse: collapse;"> <tr> <td style="width: 5%; text-align: center;">1</td> <td style="width: 55%;">ഇന്ത്യയുടെ കിഴക്കുഭാഗത്തുള്ള കടൽ</td> <td style="width: 40%;">ബംഗാൾ ഉൾക്കടൽ</td> </tr> <tr> <td style="text-align: center;">2</td> <td>ഇന്ത്യയുടെ പടിഞ്ഞാറുഭാഗത്തുള്ള കടൽ</td> <td>അറബിക്കടൽ</td> </tr> <tr> <td style="text-align: center;">3</td> <td>ഇന്ത്യയുടെ തെക്കുഭാഗത്തുള്ള ഒരു അയൽ രാജ്യം</td> <td>ശ്രീലങ്ക</td> </tr> <tr> <td style="text-align: center;">4</td> <td>ഇന്ത്യയുടെ തെക്കേ അറ്റത്തുള്ള കേന്ദ്ര ഭരണ പ്രദേശം</td> <td>മാഹി</td> </tr> </table>	1	ഇന്ത്യയുടെ കിഴക്കുഭാഗത്തുള്ള കടൽ	ബംഗാൾ ഉൾക്കടൽ	2	ഇന്ത്യയുടെ പടിഞ്ഞാറുഭാഗത്തുള്ള കടൽ	അറബിക്കടൽ	3	ഇന്ത്യയുടെ തെക്കുഭാഗത്തുള്ള ഒരു അയൽ രാജ്യം	ശ്രീലങ്ക	4	ഇന്ത്യയുടെ തെക്കേ അറ്റത്തുള്ള കേന്ദ്ര ഭരണ പ്രദേശം	മാഹി	2 2	1 1 1 1 5
1	ഇന്ത്യയുടെ കിഴക്കുഭാഗത്തുള്ള കടൽ	ബംഗാൾ ഉൾക്കടൽ													
2	ഇന്ത്യയുടെ പടിഞ്ഞാറുഭാഗത്തുള്ള കടൽ	അറബിക്കടൽ													
3	ഇന്ത്യയുടെ തെക്കുഭാഗത്തുള്ള ഒരു അയൽ രാജ്യം	ശ്രീലങ്ക													
4	ഇന്ത്യയുടെ തെക്കേ അറ്റത്തുള്ള കേന്ദ്ര ഭരണ പ്രദേശം	മാഹി													

	<table border="1" style="width: 100%; border-collapse: collapse;"> <tr> <td style="width: 10%; text-align: center;">5</td> <td style="width: 40%;">അരുണാചൽപ്രദേശ് ഇന്ത്യയുടെ ഏത് ഭാഗത്ത് സ്ഥിതി ചെയ്യുന്നു</td> <td style="width: 50%;">വടക്കു-കിഴക്ക് ഭാഗം</td> </tr> </table>	5	അരുണാചൽപ്രദേശ് ഇന്ത്യയുടെ ഏത് ഭാഗത്ത് സ്ഥിതി ചെയ്യുന്നു	വടക്കു-കിഴക്ക് ഭാഗം	1	
5	അരുണാചൽപ്രദേശ് ഇന്ത്യയുടെ ഏത് ഭാഗത്ത് സ്ഥിതി ചെയ്യുന്നു	വടക്കു-കിഴക്ക് ഭാഗം				
Activity 7	<p>കേരളത്തിലെ ഒരു ഗ്രാമപഞ്ചായത്തിന്റെ രൂപരേഖ നിരീക്ഷിച്ചുവല്ലോ.</p> <p>(a). തന്നിരിക്കുന്ന സൂചികകൾ ഭൂപടത്തിലെ എന്തിനെയാണല്ലോ സൂചിപ്പിക്കുന്നു എന്ന് കണ്ടെത്തുക.</p> <ul style="list-style-type: none"> • ജില്ലാ അതിർത്തി • പഞ്ചായത്ത് അതിർത്തി • റെയിൽപാത • നദി <p>(b). ഭാരതപ്പുഴയ്ക്ക് സമാന്തരമായി കടന്നുപോകുന്ന പ്രധാന ഗതാഗത മാർഗ്ഗം ഏതാണ്? റെയിൽപാത</p> <p>(c). നിങ്ങളുടെ സ്വന്തം നാട്ടിലെ രണ്ട് ഭൂമിശാസ്ത്ര സവിശേഷതകൾ പട്ടികപ്പെടുത്തുക.</p> <ul style="list-style-type: none"> • ഏതെങ്കിലും രണ്ട് സവിശേഷതകൾ എഴുതുക. 	<p>2</p> <p>1</p> <p>2</p>	5			